



TALLER DE ESTADISTICA

TABLAS DE FRECUENCIA

Una tabla de frecuencias es una herramienta que sirve para organizar, ordenar y contar datos. Ayuda a responder preguntas rápidamente mediante dos columnas básicas: los **elementos** (o categorías) y la **frecuencia** (las veces que se repite cada uno).

Partes de la Tabla


1. **La Categoría:** El objeto, color, animal o juguete que estamos contando.
2. **El Conteo (Palotes):** Rayitas (|) que se dibujan para contar los elementos uno a uno. Al llegar a 5, se cruza la última línea (|) para formar un grupito y facilitar el conteo visual.
3. **La Frecuencia:** El número total de veces que se repite el dato, escrito en número.

RECORTA LA FICHA POR PARTES Y PÉGALAS EN EL CUADERNO DE ESTADÍSTICA, RESUELVE LA FICHA, COLOREA LOS DIBUJOS Y DESARROLLA CADA PUNTO.

Actividad 1: Llena la tabla de frecuencia:

Problema: Se encuestaron varios niños para averiguar que animal preferían. Este fue el resultado:

Nota: Usa la I mayúscula para marcar el conteo



Completa el cuadro:

Tabla de frecuencia		
León		
Sapo		
Perro		
Tortuga		

Respuestas:

Frecuencia

Animales

Conteo

1. Observa y completa la tabla de frecuencia.



Animales	Cantidad

2. Selecciona la respuesta correcta:

• ¿Cuántos leones hay en total?

A. 5

B. 8

C. 7

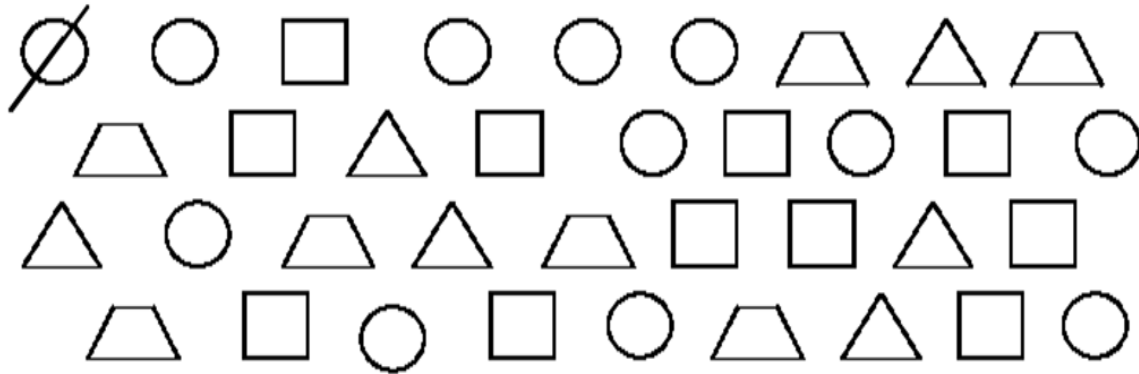
• ¿De qué animal hay mayor cantidad?

A. Elefante





B. León

C. Tigre

1. Tarja cada figura y cuenta. Completa el cuadro:



Cuadro:

	Palotes	Frecuencia absoluta	Total
			
			
			
			

Responde las siguientes preguntas:

- ¿Cuántos círculos hay en total? _____
- Si sumamos todas las figuras ¿cuantas hay en total? _____
- Si sumamos los triángulos y los trapecios ¿Cuántos hay en total? _____
- ¿Cuál es la figura que más tiene? _____
- ¿Cuál es la figura que menos tiene? _____